	<b>INSTITUCIÓN EDUCATIVA BENEDIKTA ZUR NIEDEN</b>	Código:
		Versión:
	<b>TALLER PLAN DE MEJORA PRIMER PERIODO</b>	Página:

<b>FECHA: Mayo 17 al 10 de Junio</b>	<b>GRADO: 3°</b>	<b>PERIODO: 1</b>
<b>DOCENTE: Eliana Estrada Gonzalez</b>		
<b>ASIGNATURA: Ciencias Sociales</b>		
<b>NOMBRE DEL ESTUDIANTE:</b>		

**CONTENIDOS TEMATICOS:**

- Normas escolares y familiares.
- ¿Qué es la orientación?
- ¿Qué son las representaciones graficas?
- ¿Qué es el paisaje?
- ¿Qué son las zonas rurales y urbanas?

**COMPETENCIAS A EVALUAR:**

- Pensamiento Social.

**ACTIVIDADES A DESARROLLAR:**

- En el siguiente listado copia F si la afirmación es falsa o V si es verdadera.
  - En el colegio debo respetar a mis compañeros y maestros ( )
  - Todos los días debo llevar al colegio juguetes ( )
  - En el aula de clases debo gritar fuertemente ( )
  - Debo realizar las actividades y tareas asignadas por el docente ( )
  - Para hablar debo pedir la palabra ( )
- Observa la imagen, luego colorea las acciones correctas y tacha las incorrectas:



3. En el recuadro dibuja tu familia y escribe 5 normas que se deben cumplir en casa.

**NORMAS FAMILIARES:**

1: .....

2: .....


3: .....

4: .....

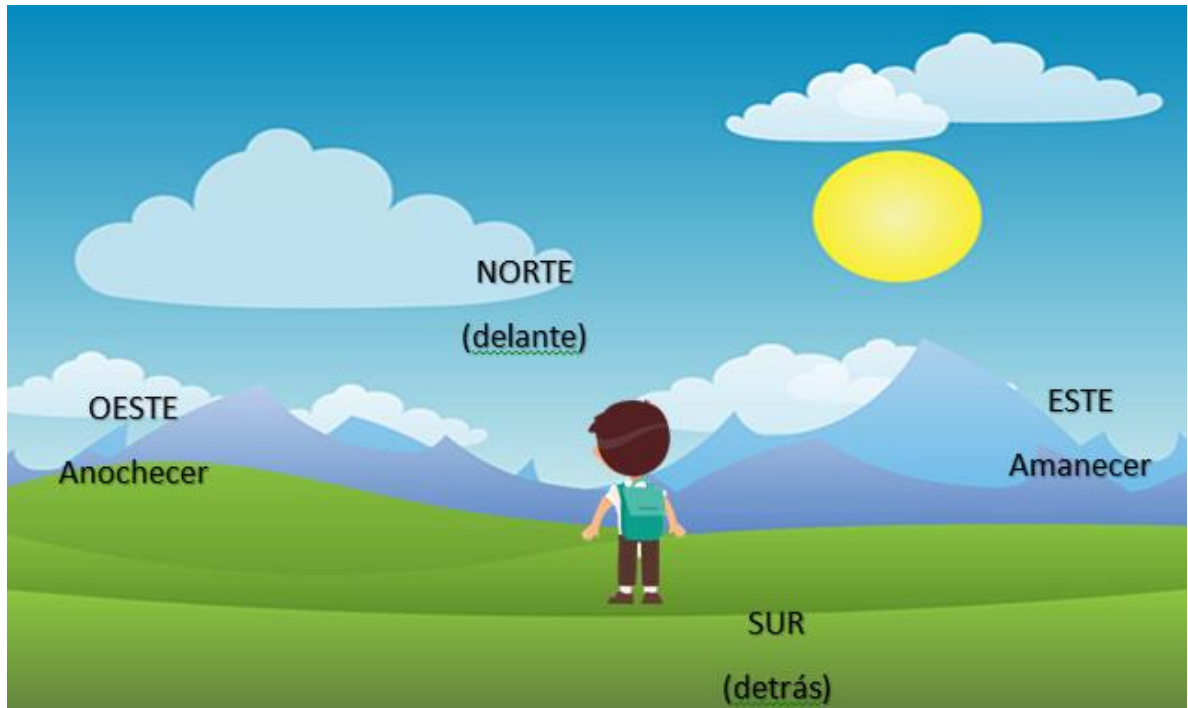
5: .....

Un instrumento muy útil para orientarnos es la BRUJULA, te invito a consultar sobre ella.

4. Dibuja en el recuadro la brújula que consultaste y coloréala:



5. Observa la imagen que nos muestra los puntos cardinales y luego resuelve la gráfica:



Escribe el nombre del punto cardinal hacia donde tiene que caminar Juanito para llegar a la biblioteca, iglesia, parque, escuela y su casa.




6. Responde cada uno de los interrogantes:

- El municipio de Itagüí se encuentra ubicado en el departamento de: .....
- Colombia el país en el que vivimos limita con los países de: ....., ....., ....., ....., .....
- Nuestra I.E Benedikta Zur Niden se encuentra ubicada en el municipio de: .....
- El barrio en que vivo se llama: ..... y esta ubicado en el municipio de .....
- Escribe el nombre de 3 barrios que pertenezcan al municipio de Itagüí ....., ....., .....

7. En el siguiente mapa colorea el departamento de Antioquia:



8. Cuando hablamos de zonas rurales, nos referimos a aquellas que se encuentran en el campo.  
Ahora teniendo en cuenta lo anotado anteriormente dibuja en el recuadro una zona rural.



9. Observa las imágenes y completa los cuadros según lo solicitado:

**ESCRIBE DEBAJO DE CADA DIBUJO SI SE TRATA DEL CAMPO O A LA CIUDAD**

 <input type="text"/>	 <input type="text"/>	 <input type="text"/>
 <input type="text"/>	 <input type="text"/>	 <input type="text"/>

10. En el cuaderno de Ciencias Sociales encontramos claramente la definición de paisaje **natural** y paisaje **artificial**, teniendo en cuenta estas definiciones dibuja en cada recuadro los diferentes tipos de paisajes:

<b>PAISAJE NATURAL</b>	<b>PAISAJE ARTIFICIAL</b>